



## Guía de Lenguaje Y Comunicación

**Objetivo:** Leer y comprender con un amplio repertorio literario para aumentar su conocimiento del mundo que lo rodea.

- ✚ Lee y/o escucha atentamente el siguiente texto noticioso, recuerda destacar datos importantes para una mejor comprensión.

### **Bomberos sufrirá vergonzosa baja de presupuesto por culpa del Covid-19**



La expansión del Covid-19 en nuestro país ha obligado a las autoridades a tomar una serie de medidas en el área económica.

De manera inesperada y con profunda molestia recibió Bomberos la decisión del Ministerio de Hacienda que dice que disminuirá el presupuesto económico para bomberos.

El presupuesto anual entregado por el Estado a Bomberos disminuyó en un 7,86%, recibiendo este año \$3.755 millones de pesos menos que el año anterior. Esta situación dificultará a bomberos aspectos como: la capacitación de los voluntarios, el pago de los carros de bombas y la compra de material para los casos de emergencia.

Bajo esta medida tomada por el gobierno el cuerpo de bomberos decidió protestar haciendo sonar sus sirenas en rechazo a la rebaja de presupuestos en todo el país. El Directorio Nacional de Bomberos de Chile acordó la manifestación para alertar a la comunidad “de nuestra profunda molestia y desazón por la decisión adoptada por el Gobierno”



1) **De acuerdo a lo leído anteriormente, responde con la letra V si consideras que el enunciado es verdadero o con la letra F si te parece que es falso.**

1- \_\_\_\_\_ La rebaja de presupuestos por el Gobierno es para los **carabineros de Chile**.

2- \_\_\_\_\_ La medida fue tomada por el **Ministro de Salud**.

3- \_\_\_\_\_ Los bomberos **están conforme** con la decisión tomada por el gobierno.

4- \_\_\_\_\_ El presupuesto anual disminuyó en un **6,76%**.

5- \_\_\_\_\_ La rebaja de presupuesto económico es de **\$3.755 millones de pesos**.

6- \_\_\_\_\_ Los bomberos **celebraron** la noticia haciendo sonar las sirenas en todo el país.

7- \_\_\_\_\_ La rebaja de ingresos afecta para **la capacitación de los voluntarios, el pago de carro entre otras cosas más**.



**2) Responde de forma escrita las siguientes preguntas según tu opinión acerca del texto anteriormente leído.**

1- ¿Qué opinas de la decisión que tomaron los bomberos de protestar haciendo sonar sus sirenas en todo Chile?

---

---

---

2- ¿Qué motivo crees tú que tuvieron las autoridades para tomar esta decisión?

---

---

---

---

---

---

3- ¿Qué piensas al respecto ¿Está bien o está mal la baja de presupuestos a bomberos? ¿Por qué?

---

---

---

---

---

---



**3) Lee atentamente las preguntas y luego encierra con un círculo la alternativa que consideras correcta.**

1- ¿De qué institución habló la noticia?

- A) Carabineros.
- B) Bomberos
- C) Gurda bosques.

- A) ¿En cuánto disminuyó el presupuesto anual?
- B) 6,86%
- C) 7,65%
- D) 7,86%

2- ¿Qué ministro tomó la decisión de bajar el presupuesto a bomberos de Chile?

- A) Ministro del interior.
- B) Ministro de deporte.
- C) Ministro de Hacienda.

3- ¿Cómo reaccionaron los bomberos al saber de esta noticia?

- A) Felices
- B) De manera inesperada y molestos
- C) Ellos ya estaban informados de la situación.




## GUÍA DE CÁLCULO

**Objetivo:** Resolver problemas cotidianos que involucren situaciones con dinero incluyendo adición y sustracción con reserva mediante el uso de calculadora.

### Dato importante

Cuando llegan las boletas a casa debemos identificar dónde está la información del **monto total a pagar**, aquí te dejo un ejemplo para que puedas tener presente en el desarrollo de esta guía de aprendizaje.



**Essbio S.A.**  
 Captación, Depuración y Distribución de Agua  
 R.U.T.: 76.833.300-9  
 Casa Matriz: Avenida Arturo Prat N° 199 oficina 1501  
 piso 15 Torre B, Concepción  
 Sucursal: Bello Horizonte N°845, Oficina 204, Rancagua

**KAREM PATRICIA CAMPOS ORTIZ**  
 PJE.FINLANDIA 672 VILLA DON HORACIO SANTA CRUZ  
 Chile  
 SANTA CRUZ

**RUT : 76.833.300-9**

**BOLETA ELECTRONICA**

**N° 52386698**

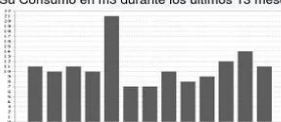
**S.I.I. - CONCEPCIÓN**

**N° Ruta** 639616610290  
**Boleta Emitida** 21/NOV/2019  
**Tipo de Despacho** Entrega en la Instal.  
**Grupo tarifario** 2 ESSBIO VI  
**Factor de Cobro** 1,00  
**Tipo Facturación** NORMAL  
**Diámetro** 19  
**Medidor** LR D019 # 59082

**Su número de Servicio es:** **5014496-8**

Su consumo en m <sup>3</sup> de este mes (1m <sup>3</sup> 1.000 litros de agua)		Su consumo en \$ de este mes, se calcula así:		
Lectura Actual	14/11/2019	767	Cargo Fijo	643
Lectura Anterior	15/10/2019	756	Consumo Agua Potable	5.462
Consumo Calculado	11,00		Servicio De Alcantarillado	6.407
			Tratamiento Aguas Servidas	4.358
Consumo Facturado	11,00		Subtotal Consumo Mes	16.870
			Intereses	302
			Ajuste Sencillo Anterior	6
			Ajuste Sencillo	- 8

Su Consumo en m<sup>3</sup> durante los últimos 13 meses fue:



Su gasto diario fue de: \$ 572

Monto Total 17.170  
 Saldo Anterior 21.620

**TOTAL A PAGAR VENCIMIENTO** **38.790**  
 Corte en trámite

**TOTAL A PAGAR VENCIMIENTO** **38.790**  
 Corte en trámite


*Aquí está la información de lo que debes pagar en esta boleta.*


Desde 06-05-2013 ya no se reciben pagos en nuestras oficinas.  
 Tarifas Publicadas: Diario El Rancaguino 22-07-2019  
 Próxima Facturación Período Punta  
 La Fecha Estimada para su Próxima Lectura es el 14/12/2019

Últimos pagos: 04/NOV/2019 Monto: 18.600 N° Pagos: 1

N° Servicio: 5014496-8  
 Copia Boleta: 52386698  
 Monto Total: 17.170  
 Saldo Anterior: 21.620  
 Vence: Corte en trámite  
**Total a Pagar: 38.790**

Timbre Electrónico SII  
 Res. 111 del 2010. - Verifique documento: www.sii.cl



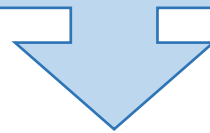

800 33 11000
+56 91 2311
www.essbio.cl
@essbio



✚ **Observa las siguientes boletas y resuelve los problemas matemáticos, recuerda tener a mano tu calculadora o celular para trabajar.**

Recuerda nuestras claves según la palabra que sale en el problema

- **Vuelto o falta:** es **RESTA**
- **Total:** es **SUMA**



1. Trinidad debe pagar la cuenta de la luz, pero solo tiene \$20.000 ¿Cuánto dinero le **falta** para pagar la cuenta?

**CGE**  
 COMPAÑÍA GENERAL DE ELECTRICIDAD S.A.  
 RUT: 76.411.321-7 GIRO: Transmisión, transformación y distribución de energía eléctrica, prestación de servicios administrativos, de ingeniería, entre otros, inversiones en bienes de capitales mobiliarios. CASA MATRIZ. Av. Presidente Riesco 5561, Piso 17, Las Condes.

R.U.T 96.542.120-3  
 BOLETA ELECTRONICA  
 N° 19508546  
 S.I.L-ARICA

N° CLIENTE: **1** 1234567  
 Fecha de emisión: 28 Feb 2018

Sr.(a): Cliente Observaciones de Reparto:

Dirección de envío: Sotomayor 656  
 Recone Arica Arica

Ruta: M0120011-0341 | Var.Corresp.: CWEB

¿Cuánto debo? **2** **Total a pagar \$ 38.800**  
 Monto del periodo 27 Ene - 26 Feb Incluye saldo anterior.

\*Revisa el detalle de tu cuenta al reverso de esta página →

¿Hasta cuándo puedo pagar?  
**Fecha de Vencimiento 13 Mar 2018**  
 (A partir de esta fecha se originan intereses y se te cobrará un cargo adicional por pago fuera de plazo) **3**

Corte a partir de 30 Mar 2018  
 (Motivo: No pago saldo anterior)

Cupón de pago

N° Cliente	Fecha Vencimiento
<b>9427585</b>	<b>13 Mar 2018</b>
<b>Total a pagar:</b>	<b>\$ 38.800</b>

050107323769894275850000388002

Último Pago: el 28 Feb 2018 por un monto de \$ 19.000 vía Webpay

**Ordena los datos aquí:**

**Respuesta:** \_\_\_\_\_

**¿Qué algoritmo ocupaste?:**



2. Consuelo ayudó a pagar las cuentas del teléfono y los remedios de su mamá este mes. ¿Cuánto dinero gastó en **total** al pagar las dos cuentas?



Ordena los datos aquí:

Respuesta: \_\_\_\_\_

¿Qué algoritmo ocupaste?:



3. Sofía pagará la cuenta del gas de su casa con \$ 50.000  
 ¿Cuánto dinero de darán de **vuelto**?

**R.U.T.: 96.928.510-K**  
**BOLETA ELECTRONICA**  
**N° 1301570**

S.I.I - SANTIAGO ORIENTE

Fecha de emisión 19 Nov 2016

**N° CLIENTE:** 31001538

**Empresas Lipigas S.A.**  
 RUT: 96.928.510 - K GIRO: Distribución gas licuado.  
 CASA MATRIZ: Apoquindo 5400, Piso 15 Las Condes, Santiago.

Sr.(a) CRISTIAN PUENTES FUENTES

Dirección de envío: CHOLGUAN SECTOR PONIENTE N° 13  
 YUNGAY CONCEPCIÓN

0865-3405-00074692 R

**GAS LICUADO**

\* Revisa el detalle de tu cuenta al reverso de esta página >

¿Cuánto debo? **Total a pagar \$ 48.840**  
 Monto del Periodo 17 Octubre - 16 Noviembre (Incluye Saldo Anterior)

¿Hasta cuándo puedo pagar?  
**Fecha de vencimiento 07 Dic 2016**  
 (A partir de esta fecha se originarán intereses y se te cobrará un cargo adicional por pago fuera de plazo)

Corte a Partir de **22 Dic 2016**  
 Motivo: No pago Saldo anterior

Cupón de pago  
 Boleta N° 1301570

N° Cliente	Fecha de vencimiento
31001538	07 Dic 2016

**Total a Pagar \$ 48.840**

100153832050806000048840

Ultimo Pago 28 Oct 2016 por un monto de \$58.093 Pago en Servipag Portal

Ordena los datos aquí:

Respuesta: \_\_\_\_\_

¿Qué algoritmo ocupaste?:

De acuerdo a las boletas anteriores responde las siguientes preguntas.

1. ¿Cuál es la boleta que tiene un monto **mayor** de dinero?

\_\_\_\_\_

2. ¿En qué boleta se paga **menos** dinero?

\_\_\_\_\_





## Guía de Noción del Entorno

**Objetivo:** Identificar los efectos dañinos de la actividad humana en el ecosistema.

**Recordemos**  
**¿Qué es la**  
**Contaminación**  
**Ambiental?**



La contaminación ambiental es la presencia de componentes negativos en el medio ambiente, provocando un daño a todos los seres vivos que habitan el planeta. La contaminación ambiental se origina principalmente por causa de las diferentes actividades HUMANA como industrias o la explotación de los recursos naturales

**Algunos tipos de contaminación ambiental son:**

**¿En qué consiste la contaminación del agua?**

*La contaminación del agua es cualquier cambio químico, físico o biológico en la calidad del agua que tiene un efecto dañino en cualquier ser vivo que consuma esa agua.*

*Cuando los seres humanos beben el agua contaminada tienen a menudo problemas de salud.*

**¿En qué consiste la contaminación aire?**

*La contaminación del aire es cuando el aire que respiramos se mezcla con partículas y gases dañinos para nuestra salud y para el planeta.*

**¡¡Recuerda apoyarte en el PowerPoint para completar la guía!!**



✚ Según lo visto anteriormente respecto a la **contaminación del agua**, responde las siguientes preguntas de forma escrita.

**1) ¿Qué tipos de Contaminación vimos?**

- 
- 

**2) ¿Qué es la contaminación del agua?**

---

---

---

---

**3) ¿Quiénes utilizan el agua? Nombra solo 3.**

- 
- 
- 

**4) ¿Qué consecuencia tenemos con la contaminación del agua?**

---

---

---

---



✚ Según lo leído de la **contaminación del aire**, marca la alternativa que consideres correcta en cada pregunta.

**1) ¿Qué es la contaminación del aire?**

- a) La pureza y frescura de ríos y lagos.
- b) La presencia de sustancias tóxicas en ríos, lagos y mares.
- c) Exceso de calor en el mar.

**2. ¿Cuál de estos factores puede producir contaminación del aire?**

- a) La lluvia y el sol.
- b) Algas y barro.
- c) Presencia de petróleo, plástico y basura.

**3. ¿Cuál de estos ejemplos pertenecen a la contaminación del aire?**





**+ Responde las siguientes preguntas con V si consideras que es verdadero o con una F si crees que el enunciado es falso.**

- 1) \_\_\_\_\_ Uno de los tipos de contaminación que vimos fue la del suelo.
- 2) \_\_\_\_\_ Un ejemplo de contaminación del agua es el humo de las chimeneas.
- 3) \_\_\_\_\_ Los dos factores que tiene la contaminación del aire es el factor natural y Actividades humanas.
- 4) \_\_\_\_\_ Una de las consecuencias de la contaminación del aire es el daño a la capa de ozono.
- 5) \_\_\_\_\_ Un ejemplo de contaminación del agua es el desecho de las industrias.
- 6) \_\_\_\_\_ Una de las consecuencias de la contaminación del agua es que produce problemas respiratorios.
- 7) \_\_\_\_\_ La quema de basura es un ejemplo de la contaminación del aire.



**3- Según los tipos de contaminación que vimos en la guía y el PowerPoint selecciona las imágenes según corresponda a cada tipo de contaminación y pégalas en el recuadro que corresponde.**

Contaminación del agua	Contaminación de aire



## Recortables:





## Guía Vocacional

**Objetivo: organizar diferentes comidas y distribuirlas en sus respectivos horarios.**

- Realiza tu propia minuta de la semana utilizando imágenes o dibujos, puedes guiarte por el **Ejemplo**

Lunes	Martes	Miércoles	Jueves	Viernes	Sábado	Domingo
<p>➤ <b>Desayuno:</b> Yogurt con granola</p> 						
<p>➤ <b>Almuerzo:</b> Puré con Bistec</p> 						
<p>➤ <b>Once:</b> Café Con tostadas</p> 						
<p>➤ <b>Cena:</b> Titu-fruti.</p> 						