



GUÍA DE LENGUAJE

“Comprensión lectora”

EL REY DEL DISFRAZ

Los pulpos, son considerados los animales invertebrados con mayor inteligencia. Está comprobado científicamente, que tienen un sistema nervioso muy desarrollado, que les permite resolver problemas, esquivar obstáculos y memorizar patrones.



Los pulpos son capaces de aprender observando, cosa que queda demostrada al observar al pulpo mimético en acción. El pulpo mimético, se caracteriza por tener la capacidad de imitar 15 especies marinas con gran facilidad, modificando su color y cambiando su forma de manera drástica y rápida.

Este animal, fue descubierto en el año 1998 en las costas de Indonesia y ha sido reconocido como la primera especie capaz de asumir las características múltiples de animales marinos. Lo más curioso de dicho pulpo, es su capacidad de suplantar exactamente a los depredadores de los animales que lo están acechando.

La ausencia de huesos y flexibilidad del pulpo mimético, son de vital importancia para realizar exitosamente sus imitaciones, pues le permiten moldear su cuerpo y forma fácilmente.



- **Selección múltiple:** usando la información del texto, responde las preguntas, marcando la alternativa que consideres correcta.

1. ¿Qué tipo de texto es el que acabas de leer?

- a) Cuento
- b) Texto Informativo
- c) Poema

2. ¿Cuál era el tema principal del texto?

- a) La miel de las abejas
- b) La leche de las vacas
- c) De las características del pulpo mimético

3. ¿De qué animal se hablaba en el texto?

- a) Serpiente cascabel
- b) Pulpo mimético
- c) Iguana

4. ¿Cuál es el título del texto?

- a) El rey del Mar
- b) El rey del Disfraz
- c) El rey de la selva

5. ¿Qué tipo de texto te gustaría leer en la próxima guía?

- a) Cuento
- b) Noticia
- c) Biografía



- **Desarrollo:** lee las preguntas y respóndelas de forma escrita, usando la información del texto.

1. **¿Por qué crees que el texto se llama “El Rey del Disfraz”?**

2. **¿En qué año se descubrió al pulpo mimético?**

3. **¿Dónde fue descubierto este animal?**

4. **¿Qué permite el sistema nervioso de los pulpos?**

5. **¿Qué te pareció el texto? ¿Por qué?**



- **Sopa de letras:** observa las palabras del recuadro y búscalas en la sopa de letras.

PULPO	MIMETICO	ESPECIE
INDONESIA	INVERTEBRADO	MARINA

M	A	D	Q	E	R	T	Y	U	M	S	D
I	N	V	E	R	T	E	B	R	A	D	O
M	F	Q	S	S	S	Z	X	C	R	V	P
E	H	T	P	F	R	P	L	M	I	A	L
T	J	Y	E	T	Ñ	O	E	H	N	E	U
I	K	F	C	R	R	W	H	J	A	T	P
C	L	M	I	N	D	O	N	E	S	I	A
O	Q	B	E	H	J	K	L	U	Q	P	O



GUÍA DE CÁLCULO
“OPERACIONES BÁSICAS”

$$\begin{array}{r} 2.721 \\ + 1.165 \\ \hline \end{array}$$

$$\begin{array}{r} 6.384 \\ + 2.015 \\ \hline \end{array}$$

$$\begin{array}{r} 3.134 \\ + 3.563 \\ \hline \end{array}$$

$$\begin{array}{r} 4.535 \\ + 2.113 \\ \hline \end{array}$$

$$\begin{array}{r} 2.234 \\ + 6.512 \\ \hline \end{array}$$

$$\begin{array}{r} 5.070 \\ + 2.916 \\ \hline \end{array}$$



$$\begin{array}{r} 7.989 \\ - 4.369 \\ \hline \end{array}$$

$$\begin{array}{r} 4.984 \\ - 1.063 \\ \hline \end{array}$$

$$\begin{array}{r} 9.664 \\ - 6.563 \\ \hline \end{array}$$

$$\begin{array}{r} 8.539 \\ - 6.513 \\ \hline \end{array}$$

$$\begin{array}{r} 6.734 \\ - 2.512 \\ \hline \end{array}$$

$$\begin{array}{r} 5.978 \\ - 1.916 \\ \hline \end{array}$$







GUÍA CÁLCULO

“Sistema monetario”







- **Identificación de valores:** observa el conjunto de monedas y billetes de cada recuadro y representalo con cifras.

→ Observa el **ejemplo** que te doy a continuación para que realices los otros ejercicios.

	<p>¿Cuánto dinero hay?</p> <p>R: \$3.550 pesos</p>
--	--

	<p>¿Cuánto dinero hay?</p> <p>R:</p>
	<p>¿Cuánto dinero hay?</p> <p>R:</p>
	<p>¿Cuánto dinero hay?</p> <p>R:</p>



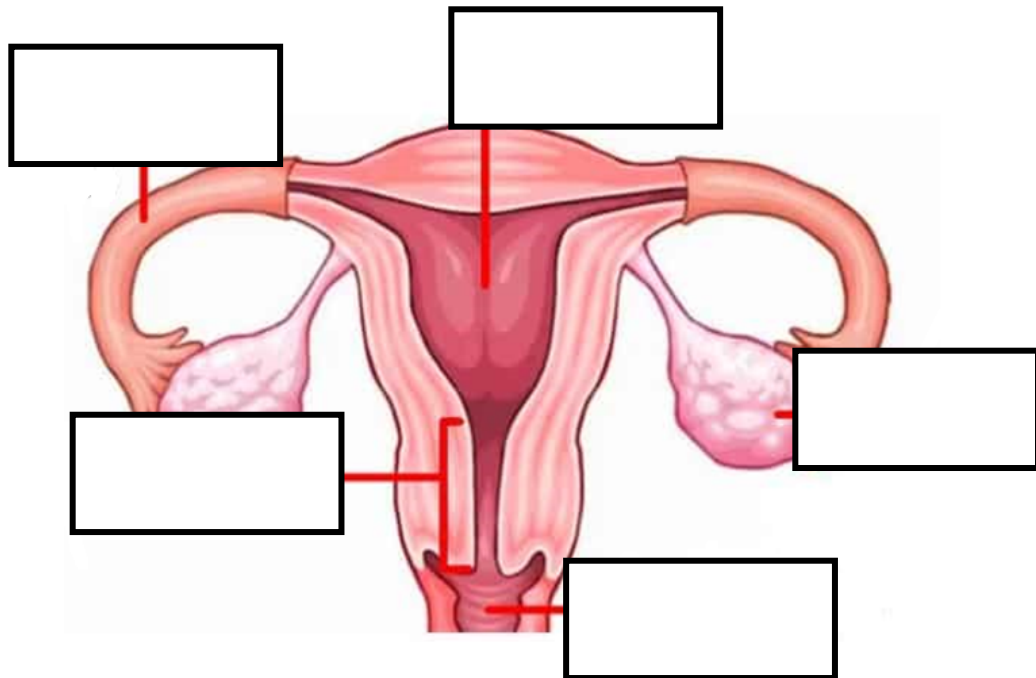
	<p>¿Cuánto dinero hay?</p> <p>R:</p>
	<p>¿Cuánto dinero hay?</p> <p>R:</p>
	<p>¿Cuánto dinero hay?</p> <p>R:</p>
	<p>¿Cuánto dinero hay?</p> <p>R:</p>
	<p>¿Cuánto dinero hay?</p> <p>R:</p>
	<p>¿Cuánto dinero hay?</p> <p>R:</p>



GUÍA DE NOCIÓN DEL ENTORNO

- **Rotulación:** utilizando la guía de aprendizaje de “sexualidad y reproducción humana” completa los casilleros con el nombre de órganos correspondientes al sistema reproductor femenino y masculino.

SISTEMA REPRODUCTOR FEMENINO





- **Selección múltiple:** lee las preguntas y responde marcando la alternativa que consideres correcta.

<p>1. ¿Cuántos meses debe durar un embarazo?</p> <p>a) 3 meses b) 7 meses c) 9 meses</p>	<p>5. ¿Qué es la fecundación?</p> <p>a) Cuando un espermatozoide se une al óvulo b) No existe la fecundación c) Un anticonceptivo</p>
<p>2. ¿Cuál de los siguientes órganos es del sistema reproductor femenino?</p> <p>a) Vagina b) Pene c) Uretra</p>	<p>6. ¿Cuál de los siguientes órganos es del sistema reproductor masculino?</p> <p>a) Ovario b) Útero c) Testículos</p>
<p>3. ¿Qué método anticonceptivo utilizan generalmente los hombres?</p> <p>a) Pastillas b) Inyección c) Preservativo</p>	<p>7. ¿Qué previene el uso de preservativo, además del embarazo?</p> <p>a) Contagio de ETS b) Resfriarse c) COVID-19</p>
<p>4. ¿Qué son las ETS?</p> <p>a) Medicamentos b) Enfermedades de transmisión sexual c) Una inyección</p>	<p>8. ¿Cuántos órganos tiene el sistema reproductor femenino?</p> <p>a) 8 b) 5 c) 12</p>



GUÍA VOCACIONAL

- A continuación, encontraras una receta, podrás ver los ingredientes y pasos para su preparación. Revísala y luego responde las preguntas.

“Brownie de plátano”

INGREDIENTES	
2 plátanos 	2 tazas de avena 
150 de cacao amargo 	100 gms de maní 
3 huevos 	endulzante 
Bicarbonato 	



PREPARACIÓN MASA

1. Comenzaremos tomando 150 gramos de avena equivalente a 2 tazas.
2. Tomamos 2 plátanos maduros y los ponemos en una licuadora y agregamos 3 huevos, 50 gramos de cacao 20 gotas de endulzante procesamos para tener una mezcla homogénea.
3. En un bowl incorporamos la mezcla que acabamos de preparar y agregamos la avena procesada revolvemos y añadimos 1 cucharada de bicarbonato para lograr que el brownie quede esponjoso seguimos revolviendo hasta integrar todo.
4. Tomamos 100 gramos de maní y lo incorporamos a la preparación para seguir mezclando una vez lista tomamos la mantequilla y la esparcimos sobre una fuente de vidrio luego sobre la misma fuente colocamos el papel mantequilla y vertimos la preparación.
5. Tomamos los 50 gramos de maní que nos quedaron y lo ponemos sobre la preparación para decorar.
6. Llevamos al horno por 20 a 25 minutos a 180 grados. Pasado el tiempo retiramos del horno de jamos reposar e enfriar 1 hora.

***Recuerda que siempre debes lavar los utensilios que utilizaste y dejar todo ordenado.**



ACTIVIDADES


I. **Verdadero o falso:** lee o escucha los enunciados y responde marcando con una V si consideras que la afirmación es correcta o con una F si consideras que es falsa.

1. ___ para la receta necesitaremos plátanos, maní, avena, bicarbonato y cacao.
2. ___ los plátanos tienen que estar vedes.
3. ___ para que quede esponjoso tenemos que colocar levadura.
4. ___ tenemos que llevarlo al horno por 20 a 25 minutos.
5. ___ se debe dejar al horno a 280 grados.
6. ___ se debe dejar enfriando 5 horas.
7. ___ La receta es saludable.
8. ___ la podemos comer todos los días.




II. **Selección múltiple:** lee o escucha las preguntas y respóndelas marcando la alternativa que consideres correcta.


1. **¿De qué era la receta?**



2. **¿Cuáles ingredientes ocupábamos para la receta?**



3. **¿Cuánto maní ocupábamos para la receta?**








4. ¿Cuántos huevos se ocupan para la receta?

<p>A. 6 huevos</p> 	<p>B. 1 huevo</p> 	<p>C. 3 huevos</p> 
--	---	--

5. ¿Cuánto tiempo se deja en el horno?

<p>A. 30 a 35 minutos</p>	<p>B. 20 a 25 minutos</p>	<p>C. 45 a 55 minutos</p>
-------------------------------	-------------------------------	-------------------------------

6. ¿Te gustó la receta?

<p>A. Si</p> 	<p>B. No</p> 	<p>C. Mas o menos</p> 
--	--	---